

ΧΗΜΕΙΑ ΘΕΤΙΚΗΣ ΚΑΤΕΥΘΥΝΣΗΣ 2005

ΕΚΦΩΝΗΣΕΙΣ

ΘΕΜΑ 1

Για τις ερωτήσεις 1.1 - 1.4 να γράψετε στο τετράδιό σας τον αριθμό της ερώτησης και δίπλα το γράμμα που αντιστοιχεί στη σωστή απάντηση.

1.1. Ο μέγιστος αριθμός των ηλεκτρονίων που είναι δυνατόν να υπάρχουν σε ένα τροχιακό, είναι:

- α. 2.
- β. 14.
- γ. 10.
- δ. 6.

Μονάδες 5

1.2. Ποια από τις παρακάτω ηλεκτρονιακές δομές αποδίδει τη δομή ατόμου στοιχείου του τομέα s στη θεμελιώδη κατάσταση;

- α. $1s^2 2s^2 2p^6 3s^2 3p^2$
- β. $1s^2 2s^2 2p^6 3s^2 3p^4 4s^1$
- γ. $1s^2 2s^2 2p^6 3s^2 3p^6 3d^6 4s^2$
- δ. $1s^2 2s^2 2p^6 3s^2 3p^4 4s^1$

Μονάδες 5

1.3. Ποιό από τα παρακάτω αποτελεί συζυγές ζεύγος οξέος - βάσης, κατά Brønsted-Lowry;

- α. HCN / CN^-
- β. $\text{H}_3\text{O}^+ / \text{OH}^-$
- γ. $\text{H}_2\text{CO}_3 / \text{CO}_3^{2-}$
- δ. $\text{NH}_4^+ / \text{NH}_2^-$

Μονάδες 5

1.4. Στο μόριο του $\text{CH}_2=\text{CH}-\text{CH}=\text{CH}_2$ υπάρχουν:

- α. 8σ και 3π δεσμοί.
- β. 9σ και 2π δεσμοί.
- γ. 10σ και 1π δεσμοί.
- δ. 8σ και 2π δεσμοί.

Μονάδες 5

1.5. Να χαρακτηρίσετε τις προτάσεις που ακολουθούν, γράφοντας στο τετράδιό σας δίπλα στο γράμμα που αντιστοιχεί σε κάθε πρόταση, τη λέξη **Σωστό**, αν η πρόταση είναι σωστή, ή **Λάθος**, αν η πρόταση είναι λανθασμένη.

- α. Ο κβαντικός αριθμός του spin δεν συμμετέχει στη διαμόρφωση της τιμής της ενέργειας του ηλεκτρονίου, ούτε στον καθορισμό του τροχιακού.
- β. Κατά την επικάλυψη p-p ατομικών τροχιακών προκύπτουν πάντοτε π δεσμοί.
- γ. Κατά τον υβριδισμό ενός s και ενός p ατομικού τροχιακού προκύπτουν δύο sp υβριδικά τροχιακά.
- δ. Όσο και αν αραιωθεί ένα ρυθμιστικό διάλυμα, το pH του παραμένει σταθερό.
- ε. Το τροχιακό 1s και το τροχιακό 2s έχουν ίδιο σχήμα και ίδια ενέργεια.

Μονάδες 5

ΘΕΜΑ 2

2.1. Δίνονται τα στοιχεία $_{20}\text{Ca}$ και $_{21}\text{Sc}$.

- α. Ποιες είναι οι ηλεκτρονιακές δομές των στοιχείων αυτών στη θεμελιώδη κατάσταση;

Μονάδες 2

- β. Ποιο από τα δύο αυτά στοιχεία έχει τη μικρότερη ενέργεια πρώτου ιοντισμού; (μονάδα 1)

Να αιτιολογήσετε την απάντησή σας. (μονάδες 3)

Μονάδες 4

- γ. Να γραφούν οι ηλεκτρονιακές δομές των ιόντων Ca^{2+} και Sc^{3+} .

Μονάδες 2

2.2. Δίνονται τρία υδατικά διαλύματα ασθενούς οξέος HA:

- Δ₁ συγκέντρωσης c_1 και θερμοκρασίας 25°C,
- Δ₂ συγκέντρωσης c_2 ($c_2 > c_1$) και θερμοκρασίας 25°C και
- Δ₃ συγκέντρωσης $c_3 = c_1$ και θερμοκρασίας 45°C.

Ο βαθμός ιοντισμού του οξέος HA στα παραπάνω διαλύματα είναι αντίστοιχα α_1 , α_2 και α_3 όπου σε κάθε περίπτωση ο βαθμός ιοντισμού είναι μικρότερος από 0,1.

- α. Σε ποιο από τα παραπάνω διαλύματα η σταθερά ιοντισμού K_a του οξέος HA έχει τη μεγαλύτερη τιμή; (μονάδα 1)

Να αιτιολογήσετε την απάντησή σας. (μονάδες 3)

Μονάδες 4

- β. Για τους βαθμούς ιοντισμού ισχύει:

1) $\alpha_1 < \alpha_2 < \alpha_3$.

2) $\alpha_1 < \alpha_3 < \alpha_2$.

3) $\alpha_2 < \alpha_1 < \alpha_3$.

4) $\alpha_3 < \alpha_2 < \alpha_1$.

Να επιλέξετε τη σωστή από τις παραπάνω σχέσεις. (μονάδες 2)

Να αιτιολογήσετε την απάντησή σας. (μονάδες 4)

Μονάδες 6

2.3. Από τις παρακάτω ενώσεις:

Βουτάνιο $\text{CH}_3\text{-CH}_2\text{-CH}_2\text{-CH}_3$

1-Βουτίνιο $\text{CH}_3\text{-CH}_2\text{-C}\equiv\text{CH}$

1-Βουτένιο $\text{CH}_3\text{-CH}_2\text{-CH}=\text{CH}_2$

2-Βουτένιο $\text{CH}_3\text{-CH}=\text{CH-CH}_3$

α. ποιες μπορούν να αποχρωματίσουν διάλυμα Br_2/CCl_4 ;

Μονάδες 3

β. ποια αντιδρά με αμμωνιακό διάλυμα χλωριούχου χαλκού Ι (CuCl/NH_3);

Να γράψετε τη χημική εξίσωση της αντίδρασης.

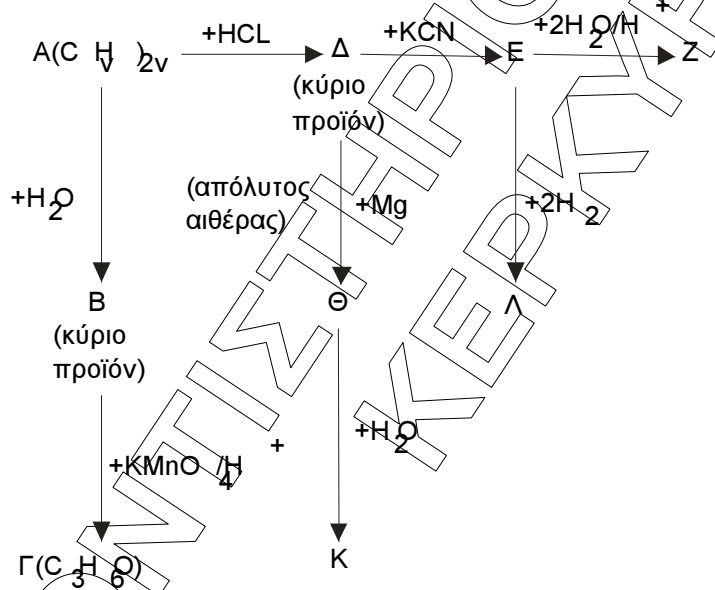
Μονάδες 3

γ. ποια δίνει, με προσθήκη HCl , ένα μόνο προϊόν;

Μονάδα 1

ΘΕΜΑ 3

Δίνεται το παρακάτω διάγραμμα χημικών μετατροπών:



α. Να γράψετε τους συντακτικούς τύπους των οργανικών ενώσεων **A**, **B**, **Γ**, **Δ**, **E**, **Z**, **Θ**, **K** και **Λ**.

Μονάδες 18

β. Ποιες από τις οργανικές ενώσεις **B**, **Λ**, **Z** έχουν, κατά Brønsted-Lowry, ιδιότητες οξέων και ποιες έχουν ιδιότητες βάσεων;

Μονάδες 3

γ. 0,5 mol της οργανικής ένωσης **B** προστίθενται σε 500 mL διαλύματος KMnO_4 0,1 M οξινισμένου με H_2SO_4 . Να γράψετε τη χημική εξίσωση της αντίδρασης που

πραγματοποιείται, και να εξετάσετε αν θα αποχρωματισθεί το διάλυμα του KMnO_4 .

Μονάδες 4

ΘΕΜΑ 4

Υδατικό διάλυμα (Δ_1) όγκου 600 mL περιέχει 13,8 g κορεσμένου μονοκαρβοξυλικού οξέος (RCOOH , όπου $\text{R} = \text{C}_v\text{H}_{2v+1}$, $v \geq 0$). Ο βαθμός ιοντισμού του οξέος στο διάλυμα είναι $\alpha = 2 \cdot 10^{-2}$ και το διάλυμα έχει $\text{pH} = 2$.

4.1.

α. Να υπολογίσετε τη σταθερά ιοντισμού K_a του οξέος RCOOH .

Μονάδες 4

β. Να βρείτε τον συντακτικό τύπο του οξέος RCOOH .

Μονάδες 4

4.2. Στο διάλυμα Δ_1 προστίθενται 750 mL υδατικού διαλύματος NaOH 0,4 M. Το διάλυμα που προκύπτει, αραιώνεται σε τελικό όγκο 1,5 L (διάλυμα Δ_2).
Να υπολογίσετε το pH του διαλύματος Δ_2 .

Μονάδες 8

4.3. Στο διάλυμα Δ_2 προστίθενται 0,15 mol HCl , χωρίς μεταβολή του όγκου του διαλύματος και προκύπτει διάλυμα Δ_3 .
Να υπολογίσετε τη συγκέντρωση των ιόντων H_3O^+ και RCOO^- που περιέχονται στο διάλυμα Δ_3 .

Όλα τα διαλύματα βρίσκονται σε $\theta = 25^\circ \text{C}$, όπου $K_w = 10^{-14}$.

Δίνονται οι σχετικές ατομικές μάζες $\text{C}:12$, $\text{H}:1$, $\text{O}:16$.

Για τη λύση του προβλήματος να χρησιμοποιηθούν οι γνωστές προσεγγίσεις.

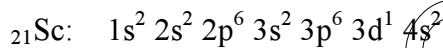
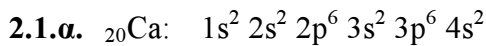
Μονάδες 9

ΑΠΑΝΤΗΣΕΙΣ

ΘΕΜΑ 1ο

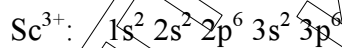
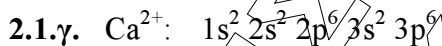
- 1.1. → α
1.2. → β
1.3. → α
1.4. → β
1.5. → α. → Σ
β. → Λ
γ. → Σ
δ. → Λ
ε. → Λ

ΘΕΜΑ 2ο



2.1.β. Το Ca

Το Ca έχει μικρότερη ενέργεια πρώτου ιοντισμού από το Sc. Τα δύο στοιχεία βρίσκονται στην ίδια περίοδο αλλά σε διαφορετική ομάδα. Όπως γνωρίζουμε σε μία περίοδο η ενέργεια πρώτου ιοντισμού αυξάνει από αριστερά προς τα δεξιά, κι επομένως το Sc που βρίσκεται πιο δεξιά έχει τη μεγαλύτερη ενέργεια πρώτου ιοντισμού (έχουν τον ίδιο αριθμό στιβάδων αλλά το Sc έχει μεγαλύτερο δραστικό πυρηνικό φορτίο, με συνέπεια η έλξη πυρήνα και ηλεκτρονίων εξωτερικής στιβάδας να γίνεται ισχυρότερη).



2.2.α. Στο διάλυμα Δ₃

Επειδή η αντίδραση ιοντισμού του οξέος HA είναι ενδόθερμη, με την αύξηση της θερμοκρασίας η ισορροπία ιοντισμού μετατοπίζεται δεξιά, οπότε η τιμή της σταθεράς K_a αυξάνεται.

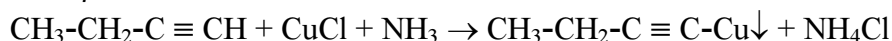
2.2.β. 3

Μεταξύ των διαλυμάτων Δ₁ και Δ₂ που βρίσκονται στην ίδια θερμοκρασία το Δ₂ έχει μεγαλύτερη συγκέντρωση άρα $a_2 < a_1$.

Μεταξύ των διαλυμάτων Δ₁ και Δ₃ που έχουν την ίδια συγκέντρωση το Δ₃ βρίσκεται σε υψηλότερη θερμοκρασία άρα $a_1 < a_3$.

2.3.α. 1-βουτίνιο, 1-βουτένιο, 2-βουτένιο

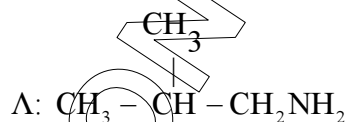
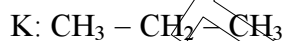
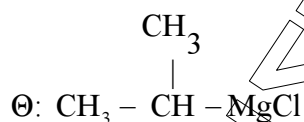
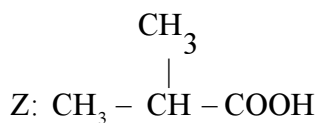
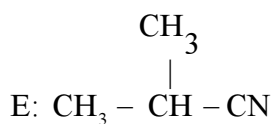
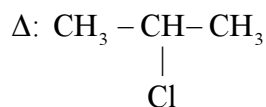
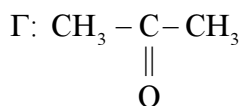
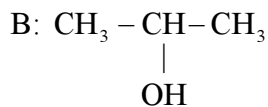
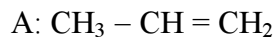
2.3.β. Το 1-βουτίνιο



2.3.γ. Το 2-βουτένιο

ΘΕΜΑ 3ο

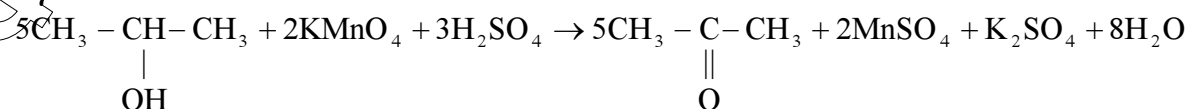
3.α.



3.β.

Οι ενώσεις Β και Ζ έχουν ιδιότητες οξέων και η Λ έχει ιδιότητες βάσης.

3.γ.



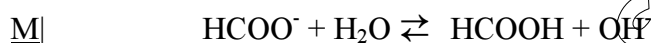
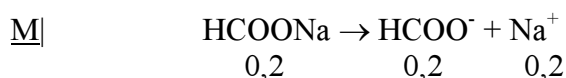
5 mol 2 mol
0,5 mol x;

Αρχ.	0,3	0,3	-	-
Αντ./Παρ.	-0,3	-0,3	0,3	0,3
Τελ.	-	-	0,3	0,3

Τελικά έχουμε ένα διάλυμα HCOONa, του οποίου η συγκέντρωση είναι

$$C_2 = \frac{n_2}{V_2} = \frac{0,3}{1,5} = 0,2 \text{ M}$$

Το άλας HCOONa δίσταται στα ιόντα HCOO⁻ και Na⁺. Το Na⁺ προέρχεται από την ισχυρή βάση NaOH άρα δεν αντιδρά με το νερό. Το HCOO⁻ είναι συζυγής βάση του HCOOH που είναι ασθενές οξύ, άρα αντιδρά με το νερό



Αρχ.	0,2	-	-
Αντ./Παρ.	-y	y	y
X.I.	0,2-y	y	y

Υπολογίζουμε την K_b του HCOO⁻:

$$K_b = \frac{K_w}{K_a} = \frac{10^{-14}}{2 \cdot 10^{-4}} = 5 \cdot 10^{-11}$$

$$K_b = \frac{y^2}{0,2} \Rightarrow y = \sqrt{5 \cdot 10^{-11} \cdot 0,2} = 10^{-5,5} \text{ M} = [\text{OH}^-]$$

$$[\text{H}_3\text{O}^+] = \frac{10^{-14}}{[\text{OH}^-]} = \frac{10^{-14}}{10^{-5,5}} = 10^{-8,5} \text{ M}$$

$$\text{pH} = -\log[\text{H}_3\text{O}^+] = -\log 10^{-8,5} = 8,5$$

4.3.

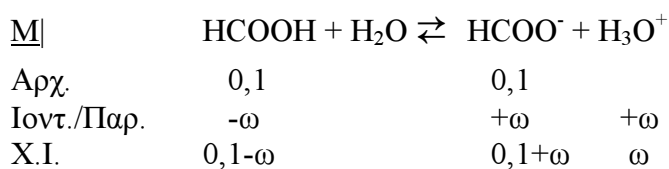
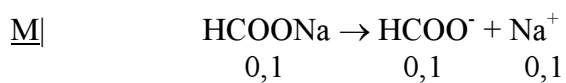
Θα πραγματοποιηθεί η παρακάτω αντίδραση:

<u>mol</u>	HCOONa	+	HCl	→	HCOOH	+	NaCl
Αρχ.	0,3		0,15		-		-
Αντ./Παρ.	-0,15		-0,15		0,15		0,15
X.I.	0,15		-		0,15		0,15

$$C_{\text{HCOOH}} = C_{\text{HCOONa}} = \frac{0,15}{1,5} = 0,1 \text{ M}$$

Το NaCl δεν επηρεάζει την τιμή του pH γιατί είναι προϊόν εξουδετέρωσης ισχυρού οξέος από ισχυρή βάση.

Προκύπτει ρυθμιστικό διάλυμα HCOOH-HCOONa (Δ_3), στο οποίο πραγματοποιούνται οι εξής αντιδράσεις:



$$K_a = \frac{0,1 \cdot \omega}{0,1} \Rightarrow \omega = K_a = 2 \cdot 10^{-4} \text{ M} = [\text{H}_3\text{O}^+]$$

$$[\text{HCOO}^-] = 0,1 + \omega \approx 0,1 \text{ M}$$