

ΠΑΝΕΛΛΑΔΙΚΕΣ ΕΞΕΤΑΣΕΙΣ
ΗΜΕΡΗΣΙΩΝ & ΕΣΠΕΡΙΝΩΝ ΓΕΝΙΚΩΝ ΛΥΚΕΙΩΝ
ΠΑΡΑΣΚΕΥΗ 18 ΙΟΥΝΙΟΥ 2021
ΕΞΕΤΑΖΟΜΕΝΟ ΜΑΘΗΜΑ: ΧΗΜΕΙΑ ΠΡΟΣΑΝΑΤΟΛΙΣΜΟΥ
ΣΥΝΟΛΟ ΣΕΛΙΔΩΝ: ΕΠΤΑ (7)

ΘΕΜΑ Α

Για τις προτάσεις **A1** έως και **A5** να γράψετε στο τετράδιό σας τον αριθμό της πρότασης και δίπλα το γράμμα που αντιστοιχεί στη σωστή επιλογή.

A1. Ένα ηλεκτρόνιο που ανήκει στο τροχιακό $2p_z$ μπορεί να έχει την εξής τετράδα κβαντικών αριθμών:

α. (2, 0, 0, +1/2)

β. (2, 1, 0, +1/2)

γ. (1, 0, 0, -1/2)

δ. (2, -1, 0, -1/2)

Μονάδες 5

A2. Υδατικό διάλυμα υδροχλωρίου 10^{-7} M στους 25°C έχει:

α. $\text{pH} = 7$

β. $\text{pH} > 7$

γ. $\text{pH} < 7$

δ. δεν μπορούμε να γνωρίζουμε.

Μονάδες 5

A3. Από τα παρακάτω το μικρότερο σημείο βρασμού έχει:

α. το H_2

β. το NaCl

γ. η $\text{CH}_3\text{CH}_2\text{OH}$

δ. το HCl

Μονάδες 5

A4. Στις εξώθερμες αντιδράσεις ισχύει:

α. $\Delta H = 0$

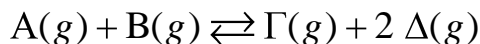
β. $\Delta H < 0$

γ. $H_{\text{αντ.}} < H_{\text{πρ.}}$

δ. τίποτα από τα παραπάνω.

Μονάδες 5

A5. Δίνεται η ισορροπία



Η σωστή έκφραση για την K_C είναι:

α. $\frac{[\Gamma]}{[A] + [B]}$

β. $\frac{[\Delta]^2}{[B]}$

γ. $\frac{[A][B]}{[\Gamma][\Delta]^2}$

δ. $\frac{[\Gamma][\Delta]^2}{[A][B]}$

Μονάδες 5

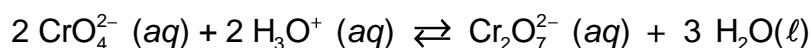
ΘΕΜΑ Β

B1. Δίνονται τα στοιχεία $_{11}\text{Na}$, $_{16}\text{S}$ και $_{19}\text{K}$.

- α. Να θέσετε τα στοιχεία αυτά, κατά σειρά αυξανόμενης ατομικής ακτίνας, αιτιολογώντας την απάντησή σας αποκλειστικά με βάση τη θέση τους στον Περιοδικό Πίνακα (μονάδες 2).
- β. Ποιο από τα $_{11}\text{Na}$ και $_{16}\text{S}$ έχει μεγαλύτερη ενέργεια πρώτου ιοντισμού; (μονάδα 1). Να αιτιολογήσετε την απάντησή σας με κριτήριο την ατομική ακτίνα και το δραστικό πυρηνικό φορτίο (μονάδες 2).

Μονάδες 5

B2. Υδατικό διάλυμα που περιέχει τα ιόντα $\text{Cr}_2\text{O}_7^{2-}$ έχει χρώμα πορτοκαλί, ενώ το υδατικό διάλυμα των ιόντων CrO_4^{2-} είναι κίτρινο. Μεταξύ των δύο ιόντων υφίσταται η ακόλουθη ισορροπία:



- α. Σε ένα κίτρινο διάλυμα ιόντων CrO_4^{2-} προσθέτουμε μικρή ποσότητα $\text{H}_2\text{SO}_4 (aq)$. Το διάλυμα χρωματίζεται πορτοκαλί (διάλυμα Y_1). Να δικαιολογήσετε την αλλαγή του χρώματος στο διάλυμα (μονάδες 2).

ΑΡΧΗ 3ΗΣ ΣΕΛΙΔΑΣ
ΗΜΕΡΗΣΙΩΝ & ΕΣΠΕΡΙΝΩΝ ΓΕΝΙΚΩΝ ΛΥΚΕΙΩΝ

- β. Στο διάλυμα Y_1 προστίθεται ποσότητα $NaOH(aq)$ μέχρι το διάλυμα να γίνει εκ νέου κίτρινο. Να δικαιολογήσετε τη νέα αλλαγή του χρώματος (μονάδες 3).

Μονάδες 5

- B3.** Να συγκρίνετε τις συχνότητες μετάπτωσης:

i. $4p \rightarrow 3s$

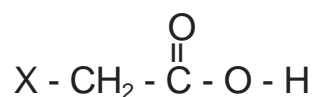
ii. $4p \rightarrow 3d$

στο ιόν του ${}_2He^+$ στην αέρια κατάσταση (μονάδες 2).

Να τεκμηριώσετε την απάντησή σας (μονάδες 3).

Μονάδες 5

- B4.** Στον παρακάτω πίνακα φαίνονται οι σταθερές (στη μορφή pK_a) τεσσάρων γνωστών καρβοξυλικών οξέων της μορφής:



X -	pK_a
F -	2,7
NO_2 -	1,7
HO -	3,6
C_6H_5 -	4,2

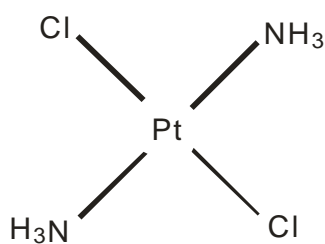
- α. Με βάση τα ανωτέρω πειραματικά στοιχεία να κατατάξετε τους υποκαταστάτες X κατά σειρά αυξανόμενου $-I$ επαγωγικού φαινομένου (1 μονάδα). Να τεκμηριώσετε την απάντησή σας (μονάδες 2).

- β. Η τιμή της pK_a του CF_3COOH είναι -0,25. Να εξηγήσετε γιατί το CF_3COOH είναι πιο ισχυρό οξύ από το CFH_2COOH ($pK_a = 2,7$) (μονάδες 2).

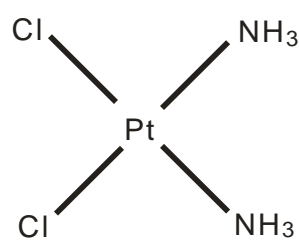
Μονάδες 5

- B5.** Ορισμένες σύμπλοκες ενώσεις του λευκοχρύσου (Pt) χρησιμοποιούνται ως φάρμακα. Η σύμπλοκη ένωση $[PtCl_2(NH_3)_2]$ υπάρχει στις δύο ακόλουθες επίπεδες δομές (ισομερή):

ΑΡΧΗ 4ΗΣ ΣΕΛΙΔΑΣ
ΗΜΕΡΗΣΙΩΝ & ΕΣΠΕΡΙΝΩΝ ΓΕΝΙΚΩΝ ΛΥΚΕΙΩΝ



Δομή Α



Δομή Β

Να εξηγήσετε για ποιον λόγο η δομή Β διαλύεται περισσότερο στο νερό από τη δομή Α.

Μονάδες 5

ΘΕΜΑ Γ

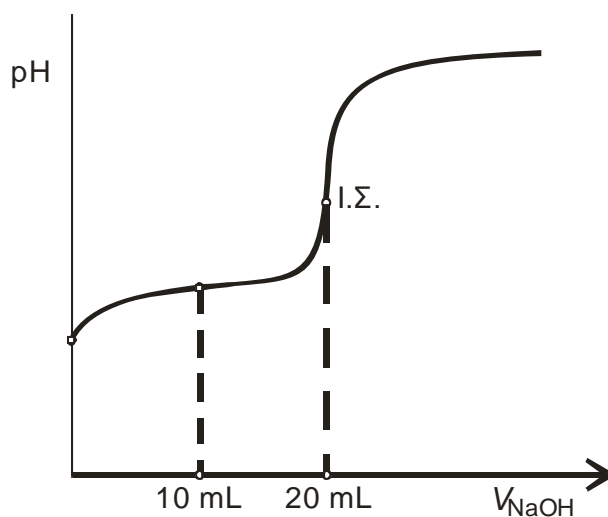
Διαθέτουμε δύο υδατικά διαλύματα (Y_1 και Y_2) ίσων συγκεντρώσεων και όγκου 20 mL το καθένα.

Το διάλυμα Y_1 περιέχει το ασθενές οξύ HA ($K_a = 10^{-6}$).

Το διάλυμα Y_2 περιέχει την ασθενή βάση B ($K_b = 10^{-6}$).

Γ1. Το διάλυμα Y_1 ογκομετρείται από πρότυπο διάλυμα NaOH 0,2 M.

Η καμπύλη ογκομέτρησης του Y_1 δίνεται στο σχήμα 1.



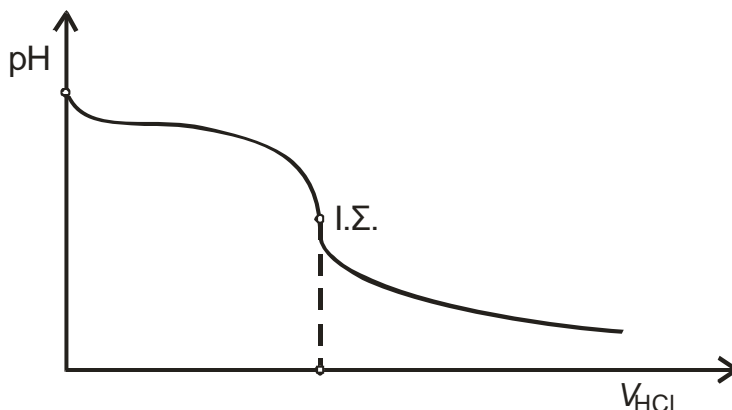
Σχήμα 1

- α. Να υπολογίσετε την αρχική συγκέντρωση του HA στο διάλυμα Y_1 (μονάδες 3).
- β. Να υπολογίσετε την τιμή του pH του ογκομετρούμενου διαλύματος, όταν έχουν προστεθεί 10 mL από το πρότυπο διάλυμα (μονάδες 3).

Μονάδες 6

Γ2. Το διάλυμα Y_2 ογκομετρείται από πρότυπο διάλυμα HCl 0,2 M.

Η καμπύλη ογκομέτρησης δίνεται στο σχήμα 2.



Σχήμα 2

- α. Να υπολογίσετε τον όγκο του προτύπου διαλύματος που καταναλώθηκε μέχρι το ισοδύναμο σημείο (μονάδες 3).
- β. Να υπολογίσετε την τιμή του pH του διαλύματος στο ισοδύναμο σημείο (μονάδες 3).

Μονάδες 6

Γ3. Δίνονται οι ακόλουθοι δείκτες:

- i. κίτρινο της αλιζαρίνης με $pK_a = 11$
- ii. πορφυρό της βρωμοκρεσόλης με $pK_a = 6,4$
- iii. ηλιανθίνη με $pK_a = 3,5$.

Να αιτιολογήσετε ποιος από τους παραπάνω δείκτες είναι καταλληλότερος για την ογκομέτρηση καθενός από τα διαλύματα Y_1 και Y_2 .

Μονάδες 6

Γ4. Αναμιγνύουμε ίσους όγκους από τα αρχικά διαλύματα Y_1 και Y_2 . Θα προκύψει διάλυμα όξινο, βασικό ή ουδέτερο (μονάδα 1); Να δικαιολογήσετε την απάντησή σας (μονάδες 2).

Μονάδες 3

Γ5. Με αποκλειστικό κριτήριο ότι η αντίδραση αυτοϊοντισμού του νερού είναι ενδόθερμη διαδικασία, να εξηγήσετε πώς μεταβάλλεται η θερμοκρασία του διαλύματος κατά τη διάρκεια της ογκομέτρησης.

Μονάδες 4

Τα δεδομένα του προβλήματος επιτρέπουν τις γνωστές προσεγγίσεις.

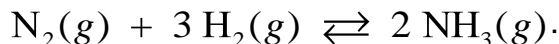
Δίνεται $K_w = 10^{-14}$.

Καθόλη τη διάρκεια των πειραμάτων οι τιμές K_a , K_b και K_w να θεωρήσετε ότι δεν μεταβάλλονται.

ΘΕΜΑ Δ

Η αμμωνία (NH₃) είναι ένα σπουδαίο βιομηχανικό αέριο με πολλές χρήσεις.

Ισομοριακό αέριο μίγμα N₂ και H₂ εισάγεται σε θερμαινόμενο σωλήνα θερμοκρασίας θ^οC παρουσία καταλύτη, οπότε συντίθεται η αμμωνία NH₃, σύμφωνα με την παρακάτω χημική εξίσωση:



Το εξερχόμενο αέριο μίγμα εισάγεται σε δοχείο όγκου V₁ και η σύστασή του παραμένει σταθερή.

Δ1. Αν το μίγμα περιέχει 20% v/v NH₃, να βρείτε την απόδοση της αντίδρασης που πραγματοποιήθηκε.

Μονάδες 6

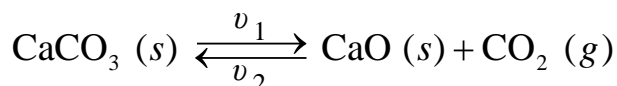
Δ2. Τα συνολικά mol των αερίων στο δοχείο είναι 10 και η πιο πάνω αντίδραση έχει

$$K_c = \frac{20}{27} \text{ στους } \theta^\circ\text{C. Να υπολογίσετε τον όγκο } V_1 \text{ του δοχείου.}$$

Μονάδες 6

Δ3. Ένα από τα παραπροϊόντα της βιομηχανικής παρασκευής της αμμωνίας (NH₃) είναι το διοξείδιο του άνθρακα CO₂, το οποίο χρησιμοποιείται για την παραγωγή ανθρακικού ασβεστίου CaCO₃ (s).

Σε δοχείο σταθερού όγκου V₂ = 1 L εισάγονται 2 mol CaCO₃ (s). Το δοχείο θερμαίνεται στους θ^οC, οπότε το CaCO₃ (s) διασπάται σύμφωνα με τη χημική εξίσωση:



Ο μέγιστος ρυθμός μεταβολής συγκέντρωσης του CO₂ είναι v = 0,4 M/min και ο βαθμός διάσπασης του CaCO₃ (s) είναι 0,5. Αν οι αντιδράσεις και προς τις δύο κατευθύνσεις της χημικής ισορροπίας είναι στοιχειώδεις (απλές) τότε:

α. να γράψετε τον νόμο ταχύτητας της αντίδρασης διάσπασης του CaCO₃ (s) (μονάδες 2), καθώς και τον νόμο της αντίθετης αντίδρασης (μονάδες 2).

β. να υπολογίσετε τις τιμές και τις μονάδες των σταθερών ταχύτητας k₁ και k₂ (μονάδες 4).

γ. να υπολογίσετε τα mol του CO₂ που πρέπει να αφαιρεθούν από το δοχείο, ώστε η πίεση σε αυτό να υποδιπλασιαστεί υπό σταθερή θερμοκρασία (μονάδες 5).

Μονάδες 13

ΟΔΗΓΙΕΣ (για τους εξεταζομένους)

1. Στο **εξώφυλλο** να γράψετε το εξεταζόμενο μάθημα. Στο **εσώφυλλο πάνω-πάνω** να συμπληρώσετε τα ατομικά στοιχεία μαθητή. Στην **αρχή των απαντήσεών σας** να γράψετε πάνω-πάνω την ημερομηνία και το εξεταζόμενο μάθημα. **Να μην αντιγράψετε** τα θέματα στο τετράδιο και **να μη γράψετε** πουθενά στις απαντήσεις σας το όνομά σας.
2. Να γράψετε το ονοματεπώνυμό σας στο πάνω μέρος των φωτοαντιγράφων, αμέσως μόλις σας παραδοθούν. **Τυχόν σημειώσεις σας πάνω στα θέματα δεν θα βαθμολογηθούν σε καμία περίπτωση.** Κατά την αποχώρησή σας, να παραδώσετε μαζί με το τετράδιο και τα φωτοαντίγραφα.
3. Να απαντήσετε **στο τετράδιό σας** σε όλα τα θέματα **μόνο** με μπλε ή **μόνο** με μαύρο στυλό με μελάνι που δεν σβήνει.
4. Κάθε απάντηση επιστημονικά τεκμηριωμένη είναι αποδεκτή.
5. Διάρκεια εξέτασης: τρεις (3) ώρες μετά τη διανομή των φωτοαντιγράφων.
6. Χρόνος δυνατής αποχώρησης: 10.00 π.μ.

ΣΑΣ ΕΥΧΟΜΑΣΤΕ ΚΑΛΗ ΕΠΙΤΥΧΙΑ
ΤΕΛΟΣ ΜΗΝΥΜΑΤΟΣ