

ΠΑΝΕΛΛΑΔΙΚΕΣ ΕΞΕΤΑΣΕΙΣ  
ΗΜΕΡΗΣΙΩΝ & ΕΣΠΕΡΙΝΩΝ ΓΕΝΙΚΩΝ ΛΥΚΕΙΩΝ

ΠΕΜΠΤΗ 8 ΙΟΥΝΙΟΥ 2023

ΕΞΕΤΑΖΟΜΕΝΟ ΜΑΘΗΜΑ: ΧΗΜΕΙΑ ΠΡΟΣΑΝΑΤΟΛΙΣΜΟΥ

ΣΥΝΟΛΟ ΣΕΛΙΔΩΝ: ΕΠΤΑ (7)

**ΘΕΜΑ Α**

Για τις προτάσεις **A1** έως και **A4** να γράψετε στο τετράδιό σας τον αριθμό της πρότασης και δίπλα το γράμμα που αντιστοιχεί στη σωστή επιλογή.

- A1.** Στο προπίνιο  $\text{CH}_3 - \overset{1}{\text{C}} \equiv \overset{2}{\text{C}} \overset{3}{\text{H}}$ , τα άτομα του άνθρακα 1, 2, 3 έχουν υβριδικά τροχιακά, αντίστοιχα
- α.  $sp^3, sp^2, sp^2$ .
  - β.  $sp^2, sp, sp^2$ .
  - γ.  $sp^3, sp, sp$ .
  - δ.  $sp^2, sp^2, sp^3$ .

Μονάδες 5

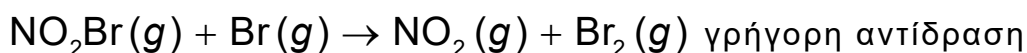
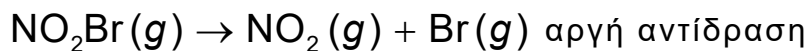
- A2.** Ο μέγιστος αριθμός ηλεκτρονίων με κβαντικούς αριθμούς  $n = 4, \ell = 2, m_\ell = -1$  σε άτομο που βρίσκεται σε θεμελιώδη κατάσταση είναι
- α. 7.
  - β. 10.
  - γ. 14.
  - δ. 2.

Μονάδες 5

- A3.** Το νιτρυλοβρωμίδιο,  $\text{NO}_2\text{Br}$ , διασπάται σύμφωνα με την αντίδραση:



Ένας προτεινόμενος μηχανισμός είναι:



Ο νόμος της ταχύτητας που προβλέπεται από αυτόν τον μηχανισμό είναι

- α.  $v = k[\text{NO}_2\text{Br}][\text{Br}]$ .
- β.  $v = k[\text{NO}_2\text{Br}]$ .
- γ.  $v = k[\text{NO}_2][\text{Br}_2]$ .
- δ.  $v = k[\text{NO}_2\text{Br}]^2$ .

Μονάδες 5

ΑΡΧΗ 2ΗΣ ΣΕΛΙΔΑΣ  
ΗΜΕΡΗΣΙΩΝ & ΕΣΠΕΡΙΝΩΝ ΓΕΝΙΚΩΝ ΛΥΚΕΙΩΝ

- A4.** Δίνεται το γραμμικό φάσμα εκπομπής του ατόμου του υδρογόνου στην περιοχή του ορατού, που προκύπτει από τις παρακάτω αποδιεγέρσεις ηλεκτρονίων:  
 $n = 6 \rightarrow n = 2$ ,  $n = 5 \rightarrow n = 2$ ,  $n = 4 \rightarrow n = 2$  και  $n = 3 \rightarrow n = 2$ .

Το μήκος κύματος που αντιστοιχεί στη μετάπτωση  $n = 3 \rightarrow n = 2$  είναι

- α. 410 nm.  
β. 434 nm.  
γ. 486 nm.  
δ. 656 nm.



**Μονάδες 5**

- A5.** Να χαρακτηρίσετε τις προτάσεις που ακολουθούν, γράφοντας στο τετράδιό σας, δίπλα στον αριθμό που αντιστοιχεί σε κάθε πρόταση, τη λέξη **ΣΩΣΤΟ**, αν η πρόταση είναι σωστή ή τη λέξη **ΛΑΘΟΣ**, αν η πρόταση είναι λανθασμένη.

1. Ο καταλύτης αυξάνει την ταχύτητα μιας αντίδρασης καθώς δημιουργεί μια νέα πορεία για την πραγματοποίηση της αντίδρασης που έχει μικρότερη ενέργεια ενεργοποίησης.
2. Υδατικό διάλυμα  $\text{NaCl}$  συγκέντρωσης 0,4 M είναι ισοτονικό με υδατικό διάλυμα γλυκόζης συγκέντρωσης 0,4 M στην ίδια θερμοκρασία.
3. Με προσθήκη στερεού  $\text{NaF}$  σε διάλυμα  $\text{HF}$ , χωρίς μεταβολή του όγκου και της θερμοκρασίας, το pH του διαλύματος αυξάνεται.
4. Το χρώμα της όξινης μορφής  $\text{H}\Delta$  ενός πρωτολυτικού δείκτη επικρατεί του χρώματος της βασικής μορφής  $\Delta^-$  του δείκτη όταν το  $\text{pH} > \text{pK}_{\text{aH}\Delta} - 1$ .
5. Με την επίδραση αντιδραστήριου Grignard σε μεθανάλη ( $\text{HCHO}$ ) και υδρόλυση του προϊόντος παράγεται δευτεροταγής αλκοόλη.

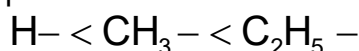
**Μονάδες 5**

**ΘΕΜΑ Β**

- B1. α.** Να κατατάξετε κατά σειρά αυξανόμενης ατομικής ακτίνας τα στοιχεία  ${}^7\text{N}$ ,  ${}^{15}\text{P}$ ,  ${}^{33}\text{As}$  που βρίσκονται στη θεμελιώδη κατάσταση, αιτιολογώντας την απάντησή σας.

(Μονάδες 3)

- β.** Να συγκρίνετε την ισχύ των βάσεων  $\text{NH}_3$ ,  $\text{AsH}_3$ ,  $\text{PH}_3$ ,  $\text{CH}_3\text{NH}_2$  σε υδατικά διαλύματα, ίδιας θερμοκρασίας, αν γνωρίζετε ότι η σειρά αύξησης του +I επαγωγικού φαινομένου είναι:



(Μονάδα 1)

Να αιτιολογήσετε την απάντησή σας.

(Μονάδες 3)

**Μονάδες 7**

ΑΡΧΗ 3ΗΣ ΣΕΛΙΔΑΣ  
ΗΜΕΡΗΣΙΩΝ & ΕΣΠΕΡΙΝΩΝ ΓΕΝΙΚΩΝ ΛΥΚΕΙΩΝ

- B2. α.** Να αντιστοιχίσετε τις χημικές ουσίες της **στήλης Α** με τα σημεία ζέσεως της **στήλης Β** σε πίεση  $P = 1 \text{ atm}$ .

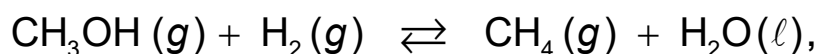
ΣΤΗΛΗ Α	ΣΤΗΛΗ Β
$\text{CH}_3\text{OH}$	$-253 \text{ }^\circ\text{C}$
$\text{H}_2$	$65 \text{ }^\circ\text{C}$
$\text{CH}_4$	$-162 \text{ }^\circ\text{C}$

Να αιτιολογήσετε την απάντησή σας.

(Μονάδες 3)

Δίνονται οι σχετικές ατομικές μάζες:  $A_r(\text{H}) = 1$ ,  $A_r(\text{C}) = 12$ ,  $A_r(\text{O}) = 16$ .

- β.** Έστω η χημική ισορροπία



η οποία πραγματοποιείται σε σταθερή θερμοκρασία  $80 \text{ }^\circ\text{C}$ .

Να εξηγήσετε πώς θα μεταβληθεί (θα αυξηθεί/θα μειωθεί/θα παραμείνει σταθερή) η ποσότητα του  $\text{H}_2$  αν αυξήσουμε τον όγκο του δοχείου.

(Μονάδες 3)

**Μονάδες 6**

- B3. α.** Διαθέτουμε 2 υδατικά διαλύματα Δ1 και Δ2 εκ των οποίων το ένα περιέχει ισχυρό μονοπρωτικό οξύ HA και το άλλο ασθενές μονοπρωτικό οξύ HB. Με πεχάμετρο μετράμε το αρχικό pH κάθε διαλύματος και διαπιστώνουμε ότι η τιμή του pH είναι η ίδια και στα δύο διαλύματα και ίση με 2.

Αραιώνουμε 10 mL από το κάθε διάλυμα μέχρι τελικού όγκου 100 mL και ξαναμετράμε τα pH. Οι τιμές καταγράφονται στον παρακάτω πίνακα.

Να βρείτε ποιο διάλυμα περιέχει το ισχυρό οξύ και ποιο το ασθενές, αξιοποιώντας τις μετρήσεις του pH πριν και μετά την αραιώση.

(Μονάδα 1)

Να αιτιολογήσετε την απάντησή σας.

(Μονάδες 2)

- β.** Στη συνέχεια ίσοι όγκοι των διαλυμάτων Δ1 και Δ2 ογκομετρούνται με το ίδιο πρότυπο υδατικό διάλυμα NaOH συγκέντρωσης  $c \text{ M}$ , καταναλώνοντας μέχρι το τελικό σημείο όγκους  $V_1$  και  $V_2$  αντίστοιχα από το πρότυπο διάλυμα.

**Πίνακας**

	Διάλυμα Δ1	Διάλυμα Δ2
αρχικό pH	2	2
pH αραιωμένων διαλυμάτων	2,5	3
mL διαλύματος NaOH που καταναλώθηκε ως το τελικό σημείο	$V_1 \text{ mL}$	$V_2 \text{ mL}$

ΑΡΧΗ 4ΗΣ ΣΕΛΙΔΑΣ  
ΗΜΕΡΗΣΙΩΝ & ΕΣΠΕΡΙΝΩΝ ΓΕΝΙΚΩΝ ΛΥΚΕΙΩΝ

Για τους όγκους  $V_1$  και  $V_2$  ισχύει:

- i)  $V_1 > V_2$                       ii)  $V_1 = V_2$                       iii)  $V_1 < V_2$

Να επιλέξετε την ορθή απάντηση.

(Μονάδα 1)

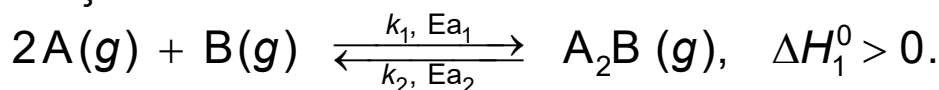
Να αιτιολογήσετε την απάντησή σας.

(Μονάδες 2)

Όλα τα διαλύματα βρίσκονται σε θερμοκρασία  $\theta = 25 \text{ }^\circ\text{C}$  και τα δεδομένα του προβλήματος επιτρέπουν τις γνωστές προσεγγίσεις.

**Μονάδες 6**

- B4.** Έστω η παρακάτω αμφίδρομη αντίδραση, η οποία λαμβάνει χώρα σε ένα στάδιο και προς τις δύο κατευθύνσεις, είναι δηλαδή απλή αντίδραση και προς τις δύο κατευθύνσεις:



- α. Εάν η προς τα δεξιά κατεύθυνση υποδεικνύεται με τον δείκτη 1 και η προς τα αριστερά κατεύθυνση υποδεικνύεται με τον δείκτη 2, να χαρακτηρίσετε τις προτάσεις που ακολουθούν, γράφοντας στο τετράδιό σας, δίπλα στην ένδειξη που αντιστοιχεί σε κάθε πρόταση, τη λέξη **Σωστό**, αν η πρόταση είναι σωστή, ή τη λέξη **Λάθος**, αν η πρόταση είναι λανθασμένη.

- i.  $\Delta H_1^0 = -\Delta H_2^0$ , όπου  $\Delta H_1^0$ ,  $\Delta H_2^0$  οι αντίστοιχες πρότυπες ενθαλπίες των αντιδράσεων.
- ii.  $E_{a_2} = E_{a_1} + \Delta H_1^0$ , όπου  $E_{a_1}$ ,  $E_{a_2}$  οι αντίστοιχες ενέργειες ενεργοποίησης των αντιδράσεων.
- iii.  $K_c = k_1 \cdot k_2$ , όπου  $K_c$  η σταθερά της χημικής ισορροπίας και  $k_1$ ,  $k_2$  οι σταθερές ταχύτητας των αντιδράσεων.

(Μονάδες 3)


- β. Να αιτιολογήσετε τις απαντήσεις σας.

(μονάδες 3)

**Μονάδες 6**

**ΘΕΜΑ Γ**

- Γ1. α.** Η ουρία ( $\text{H}_2\text{NCONH}_2$ ) αντιδρά με νερό ( $\text{H}_2\text{O}$ ) σε κατάλληλες συνθήκες και πραγματοποιείται η αντίδραση που παριστάνεται με τη θερμοχημική εξίσωση (1):



Να υπολογίσετε το ποσό της θερμότητας που εκλύεται ή απορροφάται από την αντίδραση 6 g ουρίας σύμφωνα με τη θερμοχημική εξίσωση (1).

(Μονάδες 5)

Δίνονται οι πρότυπες ενθαλπίες σχηματισμού:

$$\Delta H_f^0(\text{NH}_3(g)) = -46 \text{ kJ} \cdot \text{mol}^{-1}$$

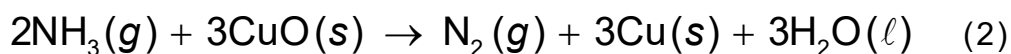
$$\Delta H_f^0(\text{CO}_2(g)) = -394 \text{ kJ} \cdot \text{mol}^{-1}$$

$$\Delta H_f^0(\text{H}_2\text{NCONH}_2(aq)) = -320 \text{ kJ} \cdot \text{mol}^{-1}$$

$$\Delta H_f^0(\text{H}_2\text{O}(\ell)) = -286 \text{ kJ} \cdot \text{mol}^{-1}$$

και οι σχετικές ατομικές μάζες:  $A_r(\text{H}) = 1$ ,  $A_r(\text{C}) = 12$ ,  $A_r(\text{N}) = 14$ ,  $A_r(\text{O}) = 16$ .

**β.** Η αμμωνία ( $\text{NH}_3$ ) που παράγεται διαβιβάζεται σε δοχείο όγκου 0,5 L και αντιδρά με περίσσεια οξειδίου του χαλκού ( $\text{CuO}$ ), οπότε πραγματοποιείται η αντίδραση που παριστάνεται με την εξίσωση (2):



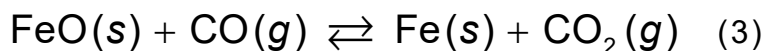
Σε χρόνο  $t = 10 \text{ s}$  έχει διασπαστεί το 20% της ποσότητας αμμωνίας ( $\text{NH}_3$ ).

Να προσδιορίσετε τη μέση ταχύτητα της αντίδρασης και τη μέση ταχύτητα κατανάλωσης της αμμωνίας ( $\text{NH}_3$ ) στο χρονικό διάστημα των 10 s.

(Μονάδες 4)

**Μονάδες 9**

**Γ2.** Σε δοχείο όγκου  $V$  και σε θερμοκρασία  $\theta$  °C πραγματοποιείται η αντίδραση που περιγράφεται από τη χημική εξίσωση (3):



Στη θέση της χημικής ισορροπίας υπάρχουν 0,25 mol  $\text{CO}$ , 1,25 mol  $\text{CO}_2$ , 0,25 mol  $\text{FeO}$  και 1,25 mol  $\text{Fe}$ .

Να υπολογίσετε την ποσότητα του  $\text{CO}_2$  σε mol, που πρέπει να απομακρυνθεί από το δοχείο της αντίδρασης στην ίδια θερμοκρασία, ώστε η ποσότητα του  $\text{CO}$

στη νέα θέση ισορροπίας να είναι το  $\frac{1}{5}$  της ποσότητας του  $\text{CO}$  στην αρχική θέση της χημικής ισορροπίας.

**Μονάδες 6**

**Γ3.** Σε τρία δοχεία περιέχονται τα παρακάτω μίγματα.

1) Αιθανικό οξύ ( $\text{CH}_3\text{COOH}$ ) και μεθανάλη ( $\text{HCHO}$ )

2) Μεθανικό οξύ ( $\text{HCOOH}$ ) και προπανόνη ( $\text{CH}_3\text{COCH}_3$ )

3) Αιθανόλη ( $\text{CH}_3\text{CH}_2\text{OH}$ ) και προπανάλη ( $\text{CH}_3\text{CH}_2\text{CHO}$ )

Κάθε δοχείο περιέχει ένα από τα παραπάνω μίγματα, διαφορετικό το καθένα. Τα συστατικά στο κάθε μίγμα δεν αντιδρούν μεταξύ τους.

Να προσδιορίσετε τη διαδικασία με την οποία θα ταυτοποιήσετε το περιεχόμενο του κάθε δοχείου, όταν έχετε στη διάθεσή σας:

ΑΡΧΗ 6ΗΣ ΣΕΛΙΔΑΣ  
ΗΜΕΡΗΣΙΩΝ & ΕΣΠΕΡΙΝΩΝ ΓΕΝΙΚΩΝ ΛΥΚΕΙΩΝ

- Υδατικό διάλυμα όξινου ανθρακικού νατρίου ( $\text{NaHCO}_3$ ) – (Διάλυμα Δ<sub>A</sub>)
- Υδατικό διάλυμα ιωδίου ( $\text{I}_2$ ) σε υδροξείδιο του νατρίου ( $\text{NaOH}$ ) – (Διάλυμα Δ<sub>B</sub>)  
(Μονάδες 6)

Να γράψετε τις αντιδράσεις που πραγματοποιούνται στο μίγμα (2), όταν προστεθεί διάλυμα Δ<sub>A</sub> και όταν προστεθεί διάλυμα Δ<sub>B</sub>.

(Μονάδες 4).

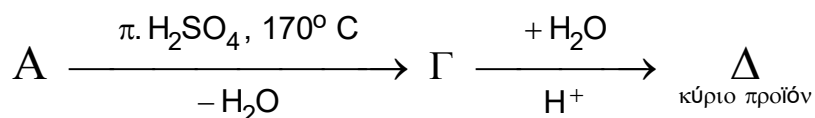
**Μονάδες 10**

**ΘΕΜΑ Δ**

**Δ1.** Τα 3,7 g κορεσμένης μονοσθενούς και πρωτοταγούς αλκοόλης Α ( $\text{C}_v\text{H}_{2v+1}\text{CH}_2\text{OH}$ ) αντιδρούν πλήρως με υδατικό διάλυμα  $\text{KMnO}_4$  παρουσία  $\text{H}_2\text{SO}_4$  και παράγεται οξύ Β.

Το οξύ Β απομονώνεται και διαβιβάζεται σε 120 mL υδατικού διαλύματος  $\text{NaOH}$  συγκέντρωσης 0,5 M έτσι ώστε να προκύψει διάλυμα Υ1. Η ποσότητα του  $\text{NaOH}$  στο Υ1 που περισσεύει μετά την αντίδραση με το οξύ Β απαιτεί για την πλήρη εξουδετέρωσή της 50 mL υδατικού διαλύματος  $\text{HCl}$  συγκέντρωσης 0,2 M.

Για την ένωση Α ισχύει:



ενώ για την ένωση Δ ισχύει ότι δεν οξειδώνεται με υδατικό διάλυμα  $\text{KMnO}_4$  παρουσία  $\text{H}_2\text{SO}_4$  χωρίς διάσπαση της ανθρακικής της αλυσίδας.

α) Να βρείτε τον μοριακό τύπο της αλκοόλης Α (μονάδες 5).

β) Να γράψετε τους συντακτικούς τύπους των οργανικών ενώσεων Α, Γ και Δ (μονάδες 3).

**Μονάδες 8**

**Δ2.** Τα 3 g προπανόλης ( $\text{C}_3\text{H}_7\text{OH}$ ) οξειδώνονται πλήρως με 70 mL υδατικού διαλύματος  $\text{K}_2\text{Cr}_2\text{O}_7$  συγκέντρωσης  $\frac{1}{3}$  M, παρουσία  $\text{H}_2\text{SO}_4$ , και σχηματίζεται μίγμα αλδεΐδης και οξέος.

Να υπολογίσετε το ποσοστό μετατροπής της προπανόλης σε οξύ.

**Μονάδες 6**

**Δ3.** Υδατικό διάλυμα  $\text{CH}_3\text{COOH}$  συγκέντρωσης 0,1 M και όγκου 2 L αναμιγνύεται με υδατικό διάλυμα  $\text{Ca(OH)}_2$  συγκέντρωσης 0,05 M και όγκου V οπότε προκύπτει ρυθμιστικό διάλυμα Υ2 με  $\text{pH} = 5$ .

Να υπολογίσετε τον όγκο V του διαλύματος  $\text{Ca(OH)}_2$ .

**Μονάδες 6**

ΑΡΧΗ 7ΗΣ ΣΕΛΙΔΑΣ  
ΗΜΕΡΗΣΙΩΝ & ΕΣΠΕΡΙΝΩΝ ΓΕΝΙΚΩΝ ΛΥΚΕΙΩΝ

**Δ4.** Προσθέτουμε σε νερό 0,01 mol  $\text{CH}_3\text{ONa}$  ώστε να προκύψει υδατικό διάλυμα όγκου 100 mL (διάλυμα Υ3).

Να υπολογίσετε το pH του διαλύματος Υ3.

**Μονάδες 5**

Δίνονται:

- $K_w = 10^{-14}$
- Για το  $\text{CH}_3\text{COOH}$ :  $K_a = 10^{-5}$
- οι σχετικές ατομικές μάζες:  $A_r(\text{H}) = 1$ ,  $A_r(\text{C}) = 12$ ,  $A_r(\text{O}) = 16$ .

Όλα τα διαλύματα βρίσκονται σε θερμοκρασία  $\theta = 25\text{ }^\circ\text{C}$  και τα δεδομένα του προβλήματος επιτρέπουν τις γνωστές προσεγγίσεις.

**ΟΔΗΓΙΕΣ (για τους εξεταζόμενους / τις εξεταζόμενες)**

1. Στο εξώφυλλο να γράψετε το εξεταζόμενο μάθημα. Στο εσώφυλλο πάνω-πάνω να συμπληρώσετε τα ατομικά στοιχεία μαθητή. Στην αρχή των απαντήσεών σας να γράψετε πάνω-πάνω την ημερομηνία και το εξεταζόμενο μάθημα. Να μην αντιγράψετε τα θέματα στο τετράδιο και να μη γράψετε πουθενά στις απαντήσεις σας το όνομά σας.
2. Να γράψετε το ονοματεπώνυμό σας στο πάνω μέρος των φωτοαντιγράφων, αμέσως μόλις σας παραδοθούν. Τυχόν σημειώσεις σας πάνω στα θέματα δεν θα βαθμολογηθούν σε καμία περίπτωση. Κατά την αποχώρησή σας, να παραδώσετε μαζί με το τετράδιο και τα φωτοαντίγραφα.
3. Να απαντήσετε στο τετράδιό σας σε όλα τα θέματα μόνο με μπλε ή μόνο με μαύρο στυλό με μελάνι που δεν σβήνει.
4. Κάθε απάντηση επιστημονικά τεκμηριωμένη είναι αποδεκτή.
5. Διάρκεια εξέτασης: τρεις (3) ώρες μετά τη διανομή των φωτοαντιγράφων.
6. Χρόνος δυνατής αποχώρησης: 10.00 π.μ.

**ΣΑΣ ΕΥΧΟΜΑΣΤΕ ΚΑΛΗ ΕΠΙΤΥΧΙΑ  
ΤΕΛΟΣ ΜΗΝΥΜΑΤΟΣ**

ΤΕΛΟΣ 7ΗΣ ΑΠΟ 7 ΣΕΛΙΔΕΣ